

مجاب عنها  
ص ٢١٤

## تدريبات الكتاب المدرسي

## ١ أكمل الجمل التالية بما يناسبها من كلمات:

- ( أ ) من أنشطة الخدمات ..... ، .....  
 ( ب ) تعتبر دلتا النيل أهم المناطق الصالحة لممارسة حرفة .....  
 ( ج ) تهدف ممارسة الأنشطة الاقتصادية إلى توفير احتياجات الإنسان من .....  
 ( د ) تتنوع العوامل الطبيعية لقيام الزراعة ومنها ..... ، .....  
 ( هـ ) من المحاصيل الصيفية ..... ، .....

## ٢ اكتب كلمة (صواب) أمام العبارات الصحيحة، وكلمة (خطأ) أمام العبارات غير الصحيحة:

- ( أ ) تقوم الزراعة في السواحل الشمالية لمصر على المياه الجوفية.  
 ( ب ) القمح من المحاصيل الصيفية.  
 ( ج ) تتميز الدلتا والوادي بترتبهما الخصبة.  
 ( د ) يصنع الخبز من القمح والشعير.

## ٣ بم تفسر ...؟

- ( أ ) أهمية الزراعة.  
 ( ب ) تنوع المحاصيل الزراعية في مصر.  
 ( ج ) اهتمام الدولة بتوفير الأسمدة والمبيدات والبذور الجيدة.  
 ( د ) أهمية رأس المال للزراعة.

## ٤ ما النتائج المترتبة على توفير الدولة للرعاية البيطرية للحيوانات؟

## ٥ وضح جهود الدولة في مجال الزراعة وتربية الحيوان.

## ٦ برهن على صحة العبارتين التاليتين:

- ( أ ) تنوع مصادر الثروة السمكية في مصر.  
 ( ب ) تنوع المحاصيل الزراعية في مصر.



حل التدریب

(سوهاج ٢٠١٥)

(الشرقية ٢٠١٦)

(أسبوط ٢٠١٥)

(القاهرة ٢٠١٥، ٢٠١٦)

(المنوفية ٢٠١٥)

١٥

مجاب عنها  
ص ٢١٤

## تدريبات الأضواء الشاملة على الدرس

## ١ أكمل العبارات التالية بما يناسبها من كلمات:

- ( أ ) تعد ..... ، ..... ، ..... من العوامل الطبيعية لقيام الزراعة.  
 ( ب ) يدخل ..... في صناعة الملابس القطنية، و ..... في صناعة السكر.  
 ( ج ) من المحاصيل الصيفية ..... و .....  
 ( د ) من المحاصيل الشتوية في مصر .....  
 ( هـ ) يدخل القطن في صناعة .....  
 ( و ) تعتمد الزراعة في السواحل الشمالية على مياه .....



(بورسعيد ٢٠١٦)

- ( ز ) توجد المياه الجوفية في المناطق ..... و .....
- ( ح ) يعد ..... هو المصدر الرئيسى للمياه في مصر .
- ( ط ) من المصايد العذبة للأسماك في مصر ..... وبحيرة .....
- ( ي ) تنقسم مصايد الأسماك في مصر إلى مصايد المياه ..... ومصايد المياه .....
- ( ك ) تنتشر تربية الأبقار والجاموس في ..... و .....

**اختر الإجابة الصحيحة مما بين الأقواس:**

- ( أ ) من الأنشطة الخدمية ..... .
- ( ب ) من العوامل الطبيعية لقيام الزراعة ..... .
- ( ج ) يصنع الخبز من ..... .
- ( د ) ترعة كبيرة تخرج من النهر مباشرة تسمى ..... .
- ( هـ ) من المحاصيل الصيفية في مصر ..... .
- ( و ) من أهم المحاصيل الشتوية في مصر ..... .
- ( ز ) يعتبر ..... من المواد الخام الحيوانية .
- ( ح ) تعتمد الزراعة في سواحل مصر الشمالية على مياه ..... .
- ( ط ) من مصايد المياه العذبة في مصر ..... .
- (الصناعة - التجارة - الزراعة - التعليم) (الإسكندرية ٢٠١٦)
- (السوق - الأيدي العاملة - التربة - رأس المال) (جنوب سيناء ٢٠١٦)
- (الذرة - القمح - الشعير - كل ما سبق)
- (الترع - الرياحات - القناطر - السدود)
- (الفاول - البرسيم - القطن - القمح) (البحيرة ٢٠١٥)
- (القطن - قصب السكر - القمح - الأرز) (سوهاج ٢٠١٦)
- (القطن - الصوف - القصب - السكر) (القاهرة ٢٠١٥)
- (نهر النيل - البحيرات - الأمطار - العيون) (مطروح ٢٠١٦)
- (نهر النيل - بحيرة ناصر - الترع - كل ما سبق)

**اكتب كلمة (صواب) أمام العبارات الصحيحة، وكلمة (خطأ) أمام العبارات غير الصحيحة:**

- ( أ ) تتنوع الأنشطة الاقتصادية في مصر لتعدد الموارد. ( )
- ( ب ) يصنع الخبز من القمح فقط. ( )
- ( ج ) تنتشر الزراعة في الصحراء الشرقية. ( )
- ( د ) تتميز الدلتا والوادي بتربتها الخصبة. ( )
- ( هـ ) من أهم المواد الخام الحيوانية اللحوم والجلود والصوف. ( )
- ( و ) تقوم الزراعة في السواحل الشمالية في مصر على المياه الجوفية. ( )
- ( ز ) يعتبر نهر النيل المصدر الرئيسى للمياه في مصر. ( )
- ( ح ) تربي الأغنام والماعز والإبل في الصحراء. ( )
- ( ط ) يعد البرتقال من الموالح التي تزرع شتاءً. ( )
- ( ي ) القمح من المحاصيل الصيفية. ( )
- ( ك ) تقوم الزراعة في مصر في فصل الصيف فقط. ( )
- ( ل ) تنتشر تربية الأبقار والجاموس في شبه جزيرة سيناء. ( )
- ( م ) تنتشر الأغنام والماعز والإبل في الوادي والدلتا. ( )
- (كفر الشيخ ٢٠١٦) ( )
- ( )
- (الدقهلية ٢٠١٥) ( )
- ( )
- (بنى سويف ٢٠١٥) ( )
- ( )
- (المنيا ٢٠١٥) ( )
- ( )
- (المنيا ٢٠١٦) ( )
- ( )
- (مطروح ٢٠١٦) ( )
- ( )
- ( )
- (بنى سويف ٢٠١٥) ( )
- ( )
- ( )
- ( )
- (سوهاج ٢٠١٥) ( )



## الدرس الأول

## الزراعة وتربية الحيوان وصيد الأسماك

- ( ن ) تتنوع مصادر الثروة السمكية في مصر .  
 ( س ) البحران الأحمر والمتوسط مصدران لأسماك المياه العذبة .  
 ( ع ) بحيرة ناصر من مصايد المياه العذبة .
- ( الفيوم ٢٠١٥ ) ( )  
 ( أسبوط ٢٠١٥ ) ( )

## اكتب ما تشير إليه العبارات الآتية:

- ( أ ) العمل أو الحرفة التي يقوم بها الإنسان لسد احتياجاته بطريق مباشر أو كسب المال لشراء هذه الاحتياجات.  
 ( ب ) قناة مائية يتم حفرها لتوصيل المياه إلى الأرض الزراعية.  
 ( ج ) ترعة كبيرة تخرج من النهر مباشرة.

## بم تفسر...؟ (اذكر سبباً واحداً)

- ( أ ) أهمية الأنشطة الاقتصادية.  
 ( ب ) أهمية الزراعة في مصر. (الجيزة ٢٠١٥)  
 ( ج ) أهمية رأس المال لقيام الزراعة.  
 ( د ) أهمية الأيدي العاملة لقيام الزراعة.  
 ( هـ ) أهمية السوق بالنسبة للزراعة.  
 ( و ) أهمية المحاصيل الزراعية في مصر. (القاهرة ٢٠١٦)

## ما النتائج المترتبة على...؟

- ( أ ) تنوع الأنشطة الاقتصادية في مصر. (الشرقية ٢٠١٥)  
 ( ب ) تنوع المناخ بالنسبة للزراعة.  
 ( ج ) فقر المراعى في البيئة الصحراوية.

## وضح جهود الدولة لتنمية الزراعة والثروة الحيوانية.

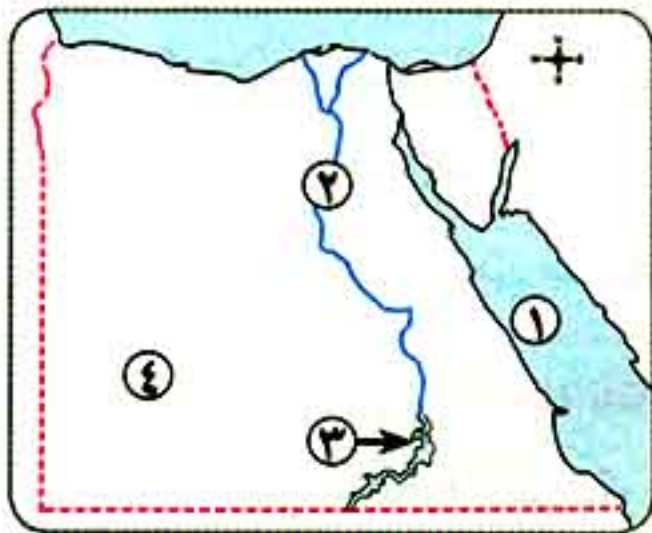
## استكمل جدول المقارنة التالي:

من أمثلة المحاصيل الشتوية		من أمثلة المحاصيل الصيفية	
المحاصيل الزراعية	الفاكهة	المحاصيل الزراعية	الفاكهة
.....	.....	.....	.....
.....	.....	.....	.....

## أكمل الشكل التالي بما يناسبه من كلمات:

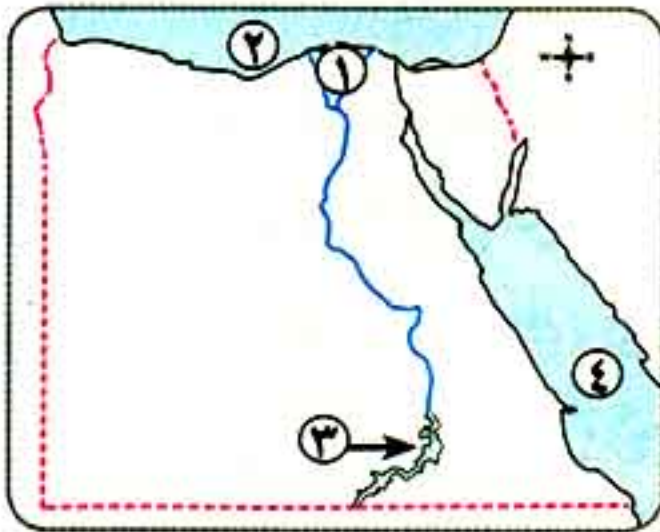






(أ) أمامك خريطة صماء لمصر، وضع ما تدل عليه الأرقام بها:

- ١- من المصايد المالحة .....
- ٢- من أهم المصايد العذبة .....
- ٣- بحيرة .....
- ٤- الصحراء .....



(ب) أمامك خريطة صماء لمصر، وضع ما تدل عليه الأرقام بها:

- ١- منطقة زراعية .....
- ٢- البحر .....
- ٣- من مصايد المياه العذبة بحيرة .....
- ٤- البحر .....

يجيب عنه التلميذ



سؤال الفائقين

- أجب عن الأسئلة التالية لتجمع نجوم التفوق:

١- دلل على:

- ١- تنوع الأنشطة الاقتصادية في مصر.
- ٢- تنوع موارد المياه في مصر.
- ٣- تعدد مصايد الأسماك في مصر.

٢- قارن بين كل من:

المحاصيل الصيفية والمحاصيل الشتوية من حيث: (الأنواع - الظروف المناخية المناسبة - أمثلة لها)

٣- فكر واكتب:

- ١- إذا كنت مسئولاً عن تحقيق التنمية الزراعية والحيوانية في مصر، فما مقترحاتك لتحقيق ذلك؟
- ٢- تخيل أنك صاحب مصنع وقمت بشراء بعض الخامات الزراعية والحيوانية، فما هذه الخامات؟ وإلى أي صناعة ستحول؟

مبروك حصلت على ( ) نجوم من نجوم التفوق



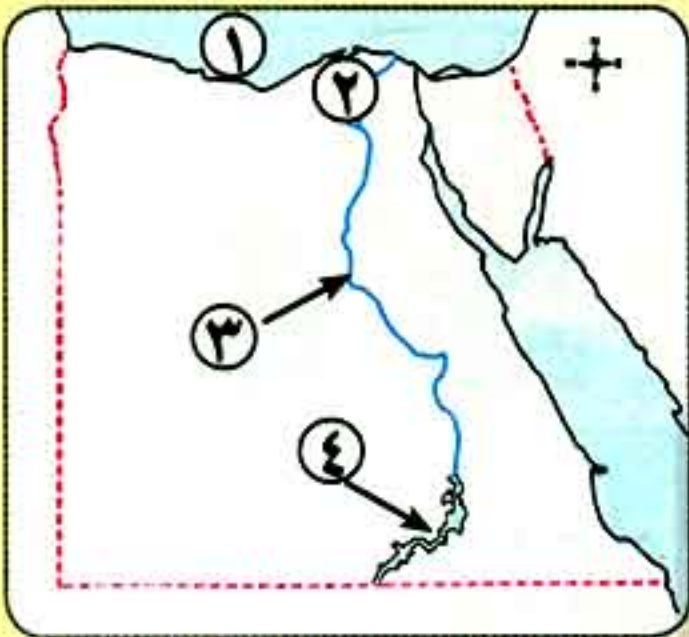


## اختبار شامل على الدرس

يجيب  
على  
التلميذ

(الجيزة ٢٠١٥)

١ أمامك خريطة صماء لمصر، اكتب ما تدل عليه الأرقام بها:



- ١- البحر .....
- ٢- منطقة زراعية .....
- ٣- من مصايد المياه العذبة .....
- ٤- بحيرة .....

٢ (١) اكتب كلمة (صواب) أمام العبارات الصحيحة، وكلمة (خطأ) أمام العبارات غير الصحيحة:

- ١- تعتبر دلتا النيل من المناطق الصالحة للزراعة في مصر. ( )
- ٢- القطن من المحاصيل الصيفية. ( ) (القاهرة ٢٠١٧)
- ٣- تربي الماشية (الأبقار- الجاموس) في المناطق الصحراوية. ( ) (الإسكندرية ٢٠١٧)
- ٤- من أهم المواد الخام الحيوانية اللحوم والجلود والصوف. ( ) (المنيا ٢٠١٥)

(ب) ما المقصود بكل من...؟ ١- الأنشطة الاقتصادية. ٢- الترع.

٣ (١) أكمل العبارات التالية بكلمات مناسبة:

- ١- تسعى الدولة لتحسين الإنتاج الزراعي بتوفير ..... والبذور .....
- ٢- المصدر الرئيسي للمياه في مصر هو نهر ..... (الدقهلية ٢٠١٧)
- ٣- من المحاصيل الصيفية القطن والأرز و .....
- ٤- تقوم الزراعة في الواحات على مياه .....

(ب) قارن بين أهم المحاصيل الصيفية وأهم المحاصيل الشتوية.

٤ (١) بم تفسر...؟ (اذكر سببًا واحدًا)

- ١- أهمية الثروة الزراعية في مصر.
- ٢- تهتم الدولة برعاية الفلاح وتحسين أحواله.

(ب) وضح أهم جهود الدولة لتنمية الزراعة والثروة الحيوانية.



مجاناً  
ص ٢٢٠

## تدريبات الكتاب المدرسي

اكتب أهم الأحداث والأعمال للملوك (الفراعنة) الآتية أسماؤهم:

الملك	الحدث - العمل
زوسر	.....
خوفو	.....
خفرع	.....

## أكمل الفراغات الآتية:

- ( أ ) يطلق على عصر الدولة القديمة عصر بناء .....
- ( ب ) نجح الملك زوسر في مد حدود البلاد جنوباً إلى .....
- ( ج ) يعد الهرم الأكبر إحدى عجائب .....
- ( د ) أمر الملك خفرع بنحت تماثال .....

## بم تفسر ...؟

- ( أ ) يطلق على هرم الملك زوسر اسم الهرم المدرج.
- ( ب ) تسمية عصر الدولة القديمة عصر بناء الأهرامات.
- ( ج ) يعد الهرم الأكبر إحدى عجائب الدنيا السبع.

## ما المقصود بالهرم؟

برهن على صحة العبارة: (تقدم المصريون القدماء في مجال الهندسة والعلوم والعمارة والفنون).



حل التدریب

مجاناً  
ص ٢٢٠

## تدريبات الأضواء الشاملة على الدرس

## أكمل العبارات الآتية بكلمات مناسبة:

- ( أ ) يعد عصر الدولة ..... عصر بناء الأهرامات.
- ( ب ) اهتم المصريون القدماء ببناء ..... لدفن موتاهم.
- ( ج ) قام الملك ..... ببناء الهرم المدرج بسقارة.
- ( د ) استطاع الملك زوسر تأمين حدود البلاد جنوباً وسيطر على .....
- ( هـ ) يتكون هرم زوسر المدرج من ..... مصاطب.
- ( و ) الملك خوفو من ملوك الدولة .....

(القاهرة ٢٠١٦)

(الفيوم ٢٠١٦)

(الإسماعيلية ٢٠١٦)

(المنيا ٢٠١٥)



- ( ز ) يعد هرم الملك ..... إحدى عجائب الدنيا السبع. (المنوفية ٢٠١٦)
- ( ح ) صاحب الهرم الأكبر هو الملك ..... (الدقهلية ٢٠١٧)
- ( ط ) أمر بنحت تمثال أبو الهول الملك ..... (المنيا ٢٠١٥)
- ( ي ) أنشأ الملك ..... هرمًا ثالثًا بجوار هرمي خوفو وخفرع.
- ( ك ) من أهم التماثيل التي تركها ملوك الدولة القديمة تمثال .....

**صوب ما تحته خط في العبارات الآتية:**

- ( ا ) يطلق على عصر الدولة القديمة عصر المجد الحربي.
- ( ب ) يعد هرم خوفو أقدم بناء حجري في التاريخ.
- ( ج ) أنشأ الملك خوفو الهرم المدرج.
- ( د ) أنشأ الملك خفرع تمثال الكاتب.
- ( هـ ) يعد الهرم المدرج إحدى عجائب الدنيا السبع.

**اكتب ما تشير إليه العبارات الآتية:**

- ( ا ) بناء ضخيم من الحجر يتكون من بعض الحجرات. (القاهرة ٢٠١٦)
- ( ب ) هرم أنشأه الملك زوسر. (.....)
- ( ج ) صاحب الهرم المدرج والذي يعد أول بناء حجري في التاريخ. (جنوب سيناء ٢٠١٧)

**اختر الإجابة الصحيحة من بين الأقواس:**

- ( ا ) يطلق على عصر الدولة القديمة عصر ..... (الرخاء الاقتصادي - المجد الحربي - بناء الأهرام - التأخر) (المنيا ٢٠١٦)
- ( ب ) أول بناء حجري في التاريخ هو الهرم ..... (الأكبر - الأصغر - المتوسط - سقارة) (المنيا ٢٠١٦)
- ( ج ) صاحب الهرم المدرج الملك ..... (خفرع - سنفرو - زوسر - أوسركاف) (البحيرة ٢٠١٦، كفر الشيخ ٢٠١٧)
- ( د ) يتكون هرم سقارة المدرج من ..... مصاطب. (ثلاث - أربع - خمس - ست) (المنوفية ٢٠١٥، القاهرة ٢٠١٦، مرسى مطروح ٢٠١٧)
- ( هـ ) يعد هرم الملك ..... من عجائب الدنيا السبع. (زوسر - خوفو - خفرع - منكاورع)
- ( و ) أمر بنحت تمثال أبو الهول الملك ..... (خوفو - خفرع - منكاورع - زوسر) (المنوفية ٢٠١٥، السويس ٢٠١٧)
- ( ز ) الملك منكاورع هو صاحب الهرم ..... (المدرج - الأكبر - الأوسط - الأصغر)

**اكتب كلمة (صواب) أمام العبارات الصحيحة، وكلمة (خطأ) أمام العبارات غير الصحيحة. فيما يلي:**

- ( ا ) يعد زوسر صاحب الهرم المدرج. ( ..... ) (الجيزة ٢٠١٥)
- ( ب ) يطلق على عصر الدولة القديمة عصر بناء الأهرام. ( ..... ) (القاهرة ٢٠١٦)
- ( ج ) يعد الهرم الأكبر إحدى عجائب الدنيا السبع. ( ..... ) (كفر الشيخ ٢٠١٥)



## شخصيات وأحداث من التاريخ الفرعوني

## لمن تنسب الأعمال التالية...؟

(سوهاج ٢٠١٥، المنوفية ٢٠١٧)

(أسبوط ٢٠١٦)

(الفيوم ٢٠١٥، الشرقية ٢٠١٧)

(دمياط ٢٠١٧)

( أ ) أمر بنحت تمثال أبو الهول.

( ب ) بنى الهرم الأصغر.

( ج ) قام ببناء الهرم الأكبر إحدى عجائب الدنيا السبع.

( د ) بناء هرم سقارة المدرج.

## بم تفسر...؟ (اذكر سببًا واحدًا):

(القاهرة ٢٠١٤)

(البحيرة ٢٠١٥، القاهرة ٢٠١٦)

(بنى سويف ٢٠١٦)

( أ ) بناء القدماء المصريين للهرم.

( ب ) يعد الهرم الأكبر من عجائب الدنيا السبع.

( ج ) أطلق على عصر الدولة القديمة عصر بناء الأهرامات.

اذكر نتيجة واحدة لما يأتي: - إيمان المصري القديم بالبعث والخلود.

يجيب عنه التلميذ



## سؤال الفائزين

أجب عن الأسئلة التالية لتجمع نجوم التفوق:

١- بعد زيارتك للأهرامات تعلمت أن:

١- الهرم ..... بناء الملك ..... ويتكون من ست مصاطب.

٢- الهرم ..... بناء الملك ..... ويعد من عجائب الدنيا بسبب.....

٣- تمثال ..... أمر ببنائه الملك .....

٤- الهرم الأصغر بناء الملك .....

٢- الأهرامات أحد الأسرار الغامضة في الحضارة المصرية، فهل تنساءلت يومًا: لماذا بنيت هذه الأهرامات؟



50

سنة أضواء  
1968-2018

استمتع بمسابقات وجوائز الأضواء

بمناسبة #50\_سنة\_أضواء

www.aladwaa.com



## اختبار شامل على الدروس السابقة

يجيب  
عنه  
التلميذ

## ١ اختر الإجابة الصحيحة مما بين الأقواس:

- ( أ ) يعد هرم ..... أحد عجائب الدنيا السبع.  
 ( ب ) أنشأ الإنسان ..... لحجز مياه الفيضان.  
 ( ج ) سمى عصر الدولة القديمة عصر .....  
 ( د ) أول هرم مدرج في التاريخ هو هرم الملك .....
- (المدرج - خوفو - خفرع - منكاورع)  
 (السدود - الأنهار - الترع - الرياحات) (دمياط ٢٠١٧)  
 (التقدم الاقتصادي - المجد الحربي - بناء الأهرامات - الاضمحلال الأول)  
 (منكاورع - خفرع - خوفو - زوسر)

## ٢ اكتب كلمة (صواب) أمام العبارات الصحيحة، وكلمة (خطأ) أمام العبارات غير الصحيحة فيما يلي:

- ( أ ) أمر الملك خوفو ببناء تمثال أبو الهول.  
 ( ب ) يتكون هرم زوسر المدرج من ست مصاطب.  
 ( ج ) تشجع الدولة على استخدام الطاقة النظيفة.  
 ( د ) لا تؤثر البيئة في الحرف التي يمارسها الإنسان.  
 ( هـ ) تنتشر الزراعة في الصحراء الغربية.
- ( ) ( ) ( ) ( ) ( )  
 (دمياط ٢٠١٧) (القاهرة ٢٠١٥)

## ٣ بم تفسر ...؟ (اذكر سببًا واحدًا):

- ( أ ) عرفت الدولة القديمة باسم عصر بناء الأهرام.  
 ( ب ) يطلق اسم الهرم المدرج على هرم الملك زوسر.

## ٤ أكمل الشكل التالي بكلمات مناسبة:



## ٥ «يعد عصر الدولة القديمة من أزهى العصور ويطلق عليه عصر بناء الأهرامات» في ضوء العبارة أجب:

- ( أ ) لماذا سمى عصر الدولة القديمة عصر بناء الأهرامات؟  
 ( ب ) صاحب هرم سقارة المدرج الملك ..... (أكمل)



مجلد فيها  
ص ٢٢١

## تدريبات الكتاب المدرسي

اختر من العمود (ب) ما يناسب العمود (أ) وأعد كتابة الجملة أسفل الجدول:

(ب)	(أ)
١ - حفر قناة سيزوستريس.	١ - الملك أحمس انتصر على
ب - سيطر على أقاليم الوجه البحري.	٢ - الملك متوحتب الثاني
ج - بنى سد اللاهون.	٣ - الملك سنوسرت الثالث
د - حفر قناة السويس.	٤ - الملك أمنمحات الثالث
هـ - أعاد توحيد البلاد.	
و - الهكسوس.	

٢ ماذا فعل الهكسوس بأهل مصر؟

٣ ماذا كان يحدث إذا لم...؟

(أ) تقم أم أحمس بتشجيعه على قيادة الجيش وطرد الهكسوس.

(ب) يقم الملك متوحتب الثاني بإعادة وحدة البلاد.

(ج) يهتم الملك أمنمحات الثالث بإنشاء سد اللاهون.

٤ في الجدول التالي اكتب أشهر ملوك الدولة الوسطى وأهم الأعمال التي قاموا بها مرتبة من القديم إلى الحديث.

رقم	الملك	أهم الأعمال
(أ)	.....	.....
(ب)	.....	.....
(ج)	.....	.....





حل التمرين

مجاب عنها  
ص ٢٢١

## تدريبات الأضواء الشاملة على الدرس

## أكمل العبارات الآتية بكلمات مناسبة:

(الغربية ٢٠١٧)

( أ ) في نهاية الدولة القديمة انتشرت .....

( ب ) سمى عصر الدولة الوسطى عصر .....

( ج ) أول ملوك الدولة الوسطى الملك .....

(القاهرة ٢٠١٦)

( د ) اتخذ الملك متوحتب الثاني من ..... عاصمة لمصر.

(الأقصر ٢٠١٥، قنا ٢٠١٧)

( هـ ) أقام الملك أمنمحات الثالث سدًا عرف بسد .....

( و ) تم حفر قناة سيزوستريس في عصر الملك .....

(القاهرة ٢٠١٦)

( ز ) حفرت قناة ربطت البحر الأحمر بالنيل عرفت بـ .....

(الإسماعيلية ٢٠١٥)

( ح ) اتخذ الهكسوس مدينة ..... عاصمة لهم.

(الإسماعيلية ٢٠١٥)

( ط ) نجح الملك ..... في طرد الهكسوس من مصر.

( ي ) شجعت الملكة ..... زوجها وابنها في حربهم ضد الهكسوس.

(الشرقية ٢٠١٦)

( ك ) يعتبر الملك أحس هو قاهر .....

## اختر الإجابة الصحيحة مما بين الأقواس:

( أ ) أطلق على عصر الدولة الوسطى عصر .....

( ب ) يطلق عصر الرخاء الاقتصادي على عصر الدولة .....

( ج ) اتخذ الملك متوحتب الثاني مدينة ..... عاصمة له.

( د ) قام الملك ..... ببناء سد اللاهون بالفيوم.

( سنوسرت الثالث - متوحتب الرابع - زوسر - أمنمحات الثالث ) (البحيرة ٢٠١٦)

( هـ ) بنى الملك أمنمحات الثالث معبدًا كبيرًا وقصرًا سمى .....

( و ) حفر الملك ..... قناة سيزوستريس.

( ز ) القناة التي تربط البحر الأحمر بنهر النيل هي قناة .....

( ح ) استخدم الهكسوس في غزوهم مصر .....

( ط ) أول من قاد الكفاح ضد الهكسوس هو الملك .....

( ي ) الملكة التي شجعت ابنها على طرد الهكسوس من مصر .....

( كليوباترا - حتشبسوت - إياح حتب - نفرтитي ) (أسبوط ٢٠١٥)

( ك ) اتخذ الهكسوس مدينة ..... عاصمة لهم.

( طيبة - منف - نخب - أواريس ) (الشرقية ٢٠١٥، جنوب سيناء ٢٠١٧)



## ٣ اختب ما تشير إليه العبارات الآتية:

- ( أ ) زوجة وأم شجاعة دعمت ابنها أحس ضد الهكسوس.  
 ( ب ) سد أقامه أمنمحات الثالث في الفيوم.  
 ( ج ) قناة حفرها سنوسرت الثالث.  
 ( د ) معبد بناه أمنمحات الثالث يتميز بكثرة حجراته.  
 ( هـ ) جماعات من الغزاة تمكنوا من احتلال شمال مصر.  
 ( و ) والد أحس الذي بدأ الجهاد ضد الهكسوس واستشهد في الحرب.

## ٤ اختب كلمة (صواب) أمام العبارات الصحيحة، وكلمة (خطأ) أمام العبارات غير الصحيحة فيما يلي:

- ( أ ) ( ) سمي عصر الدولة الوسطى عصر الرخاء الاقتصادي.  
 ( ب ) ( ) تربط قناة سيزوستريس البحر الأحمر بالبحر المتوسط.  
 ( ج ) ( ) شجعت الملكة إياح حتب ابنها أحس على طرد الهكسوس من مصر.  
 ( د ) ( ) أساء الهكسوس معاملة المصريين.

## ٥ من هو...؟

- ( أ ) ( ) استخدم العجلات الحربية لطرد الهكسوس من مصر.  
 ( ب ) ( ) الملك الذي قام ببناء سد اللاهون في عهد الفراعنة.  
 ( ج ) ( ) اتخذ من طيبة عاصمة للبلاد.  
 ( د ) ( ) السلاح الذي استخدمه الهكسوس في غزو مصر.  
 ( هـ ) ( ) أمر بحفر قناة سيزوستريس.  
 ( و ) ( ) شجعت ابنها أحس على الكفاح ضد الهكسوس.

## ٦ «رغم استشهاد والد أحس وأخيه الأكبر استمرت أمه في تشجيعه حتى انتصر على الهكسوس».. في ضوء ذلك أجب:

- ( أ ) ما اسم والدة أحس؟  
 ( ب ) ( ) ما اسم المدينة التي اتخذها الهكسوس عاصمة لهم؟  
 (القاهرة ٢٠١٤)



بم تفسر ...؟

(مطروح ٢٠١٦)

(البحيرة ٢٠١٦)

(الغربية ٢٠١٦)

(هـ) بناء سد اللاهون.

(أ) يطلق على عصر الدولة الوسطى عصر الرخاء الاقتصادي.

(ب) كراهية المصريين للهكسوس.

(ج) بناء الملك أمنمحات الثالث سد اللاهون.

(د) ضعف وسقوط الدولة القديمة.

ما النتائج المترتبة على ...؟

(ب) الازدهار الاقتصادي في عصر الدولة الوسطى.

(د) حفر قناة سيزوستريس. (البحيرة ٢٠١٦)

(و) تكوين أحس جيشًا قويًا.

(أ) ضعف ملوك الدولة القديمة.

(ج) إقامة سد اللاهون. (القاهرة ٢٠١٦)

(هـ) محاربة أحس الهكسوس. (الدقهلية ٢٠١٦)

(ز) ضعف وانهار وسقوط الدولة القديمة.

(ح) حماية أرض الفيوم من الفيضان وزيادة مساحة الأرض الزراعية.

(ي) الانتصار على الهكسوس وطردهم من مصر.

(ط) تنشيط التجارة الخارجية.

يجيب عنه التلميذ



سؤال الفائزين

لاحظ الصورة وأجب عن الأسئلة التالية:



١- الصورة تشير إلى الملك ..... قاهر .....

٢- الهكسوس هم .....

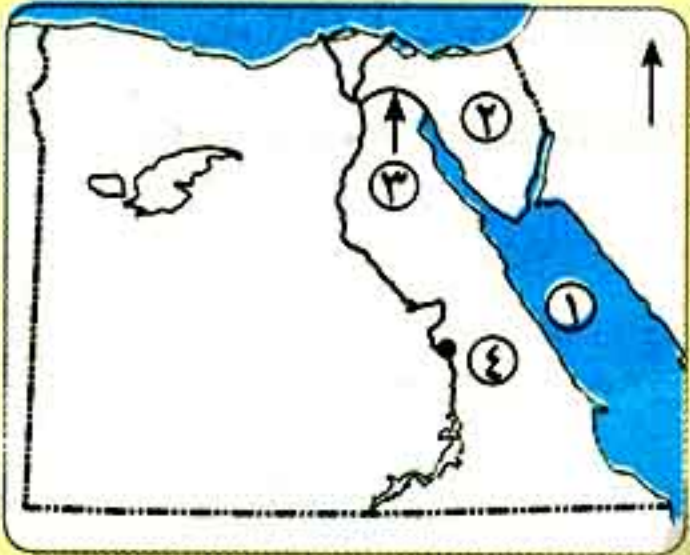
٣- أسباب كراهية المصريين للهكسوس.

٤- أسباب انتصار أحس على الهكسوس.





## اختبار شامل على الدروس السابقة

يجيب  
عنه  
اللميذ

أمامك خريطة صماء لمصر.. اكتب ما تدل عليه الأرقام:

- ١- البحر .....
- ٢- شبه جزيرة .....
- ٣- قناة حفرها الملك سنوسرت الثالث .....
- ٤- عاصمة مصر في عهد الملك متوحتب الثاني .....

أكمل العبارات الآتية بكلمات مناسبة:

- ( أ ) من الحرف التي تعرف بالخدمات ..... و .....
- ( ب ) الملك ..... صاحب الهرم ..... ويتكون من ست مصاطب.
- ( ج ) شجعت الملكة ..... زوجها وابنها في كفاحهم ضد الهكسوس.
- ( د ) أنشأت الدولة وزارة ..... عام ١٩٩٧ م للاهتمام بالبيئة.

اختر الإجابة الصحيحة مما بين الأقواس:

- ( أ ) أمر الملك ..... بنحت تمثال أبو الهول. (زوسر - خوفو - خفرع - منكاورع) (الإسماعيلية ٢٠١٥)
- ( ب ) قناة يتم حفرها لتوصيل المياه إلى الأراضي الزراعية ..... (الترعة - السد - الساقية - القنطرة)
- ( ج ) كان الملك أحمس من أمراء مدينة ..... (أواريس - منف - طيبة - بوتو)
- ( د ) قام الملك ..... ببناء سد اللاهون (سنوسرت الثالث - متوحتب الثاني - أمنمحات الثالث - زوسر) (السويس ٢٠١٧)

( أ ) اكتب ما تشير إليه العبارتان التاليتان:

- ١- البقايا التالفة التي تنتج من الصناعات المختلفة. (القليوبية ٢٠١٧)
- ٢- مناطق مخصصة للحفاظ على الحيوانات والطيور البرية. (الدقهلية ٢٠١٥)

(ب) بهم تفسر...؟

- ١- اهتمام الدولة بالمحميات الطبيعية. (القاهرة ٢٠١٧)
- ٢- كراهية المصريين للهكسوس. (البحيرة ٢٠١٥)





## أهم المفاهيم الواردة بالدرس الأول

المفهوم	معناه
نشاط اقتصادي :	- العمل أو الحرفة التي يقوم بها الإنسان لسد احتياجاته بطريق مباشر ، أو كسب المال لشراء هذه الاحتياجات .
الزراعة :	- هي نشاط يقوم به الإنسان منذ القدم في المناطق التي تتوفر فيها موارد المياه والتربة الخصبة ويرتبط بها تربية الحيوان .
المياه الجوفية :	- المياه التي توجد في باطن الأرض وعلى أعماق مختلفة ( ويتم الحصول عليها من خلال العيون أو حفر الآبار ) .
محاصيل صيفية :	- هي المحاصيل التي تحتاج إلى درجة حرارة مرتفعة ، وتزرع في فصل الصيف ، مثل : القطن ، الذرة ، قصب السكر .... وغيرها .
محاصيل شتوية :	- هي المحاصيل التي تزرع في فصل الشتاء ، مثل : القمح ، والبرسيم ، والفاول .... وغيرها .
الرياح :	- ترعة كبيرة تخرج من النهر مباشرة .
الترعة :	- قناة مائية يتم حفرها لتوصيل المياه إلى الأرض الزراعية .

## تقويم الدرس الأول

( مجاب عنها في نهاية الكتاب )

## أولاً : أنشطة الكتاب المقرر على الدرس الأول

( للاطلاع على الأنشطة ، انظر الكتاب المقرر )

( مجاب عنها في نهاية الكتاب )

## ثانياً : تدريبات الكتاب المقرر على الدرس الأول

س 1 أكمل الجمل التالية بما يناسبها من كلمات :

- أ من أنشطة الخدمات ..... ، و .....
- ب تعتبر دلتا النيل أهم المناطق الصالحة لممارسة حرفة .....
- ج تهدف ممارسة الأنشطة الاقتصادية إلى توفير احتياجات الإنسان من ..... ، و .....
- د تتنوع العوامل الطبيعية لقيام الزراعة ومنها ..... ، و .....
- هـ من المحاصيل الصيفية ..... ، و .....

س 2 اكتب كلمة ( صح ) أمام العبارة الصحيحة ، وكلمة ( خطأ ) أمام العبارة غير الصحيحة :

- أ تقوم الزراعة في السواحل الشمالية لمصر على المياه الجوفية . ( )
- ب القمح من المحاصيل الصيفية . ( )
- ج تتميز الدلتا والوادي بترتبهما الخصبة . ( )
- د يصنع الخبز من القمح والشعير . ( )





س ٣ بم تفسر ...؟ :

- أ أهمية الزراعة .  
 ب تنوع المحاصيل الزراعية في مصر .  
 ج اهتمام الدولة بتوفير الأسمدة والمبيدات والبذور الجيدة .  
 د أهمية رأس المال للزراعة .

س ٤ ما النتائج المترتبة على ؟ : توفير الدولة للرعاية البيطرية للحيوانات .

س ٥ وضح جهود الدولة في : مجال الزراعة وتربية الحيوان .

س ٦ برهن على صحة العبارات الآتية :

- أ تنوع مصادر الثروة السمكية في مصر .  
 ب تنوع المحاصيل الزراعية في مصر .

( مجاب عنها في نهاية الكتاب )

## ثالثاً : تدريبات كتاب سلاح التلميذ على الدرس الأول

س ١ أكمل العبارات الآتية بالكلمات المناسبة :

- أ يصنع الخبز من ..... ، أو الذرة ، أو .....  
 ب تنوع الحاصلات الزراعية بسبب ..... ، و ..... ، و .....  
 ج من أنواع الثروة الحيوانية التي تنتشر في الصحراء ..... ، و ..... ، و .....  
 د من أنواع المحاصيل الصيفية .....

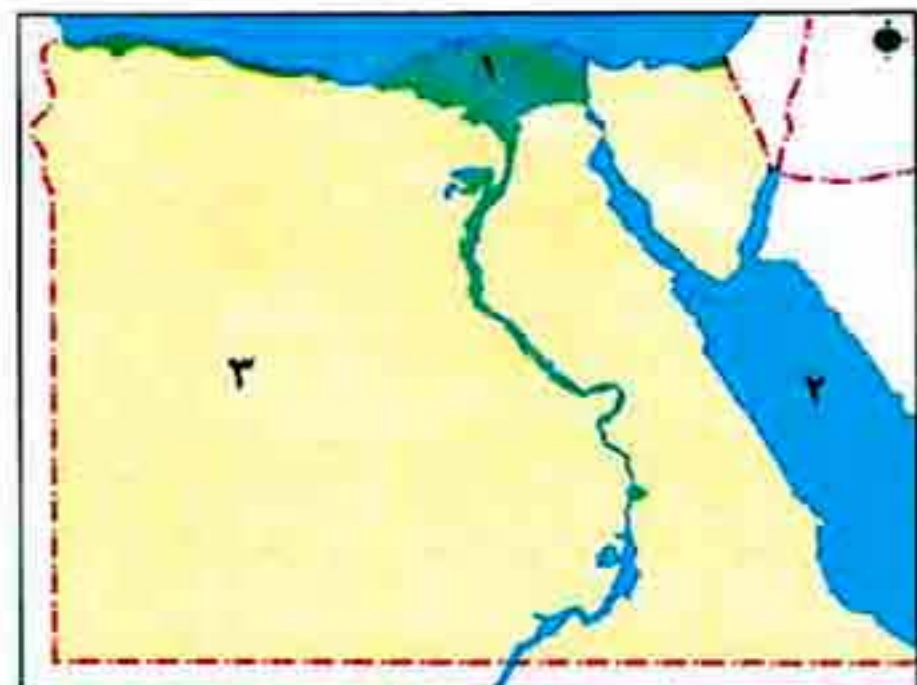
س ٢ اكتب كلمة ( صح ) أمام العبارة الصحيحة ، وكلمة ( خطأ ) أمام العبارة غير الصحيحة فيما يلي :

- أ القطن من المحاصيل الشتوية . ( )  
 ب تكثر تربية الإبل في الوادي والدلتا . ( )  
 ج تقوم الزراعة في السواحل الشمالية لمصر على مياه الأمطار . ( )  
 د من أهم مصايد الأسماك بحيرة ناصر . ( )

س ٣ بم تفسر ؟ :

- أ أهمية الزراعة .  
 ب تعدد مصادر المياه المستخدمة للزراعة في مصر .  
 ج أهمية الثروة الحيوانية .

س ٤ أمامك خريطة صماء لمصر ، اكتب ما تدل عليه الأرقام :




- ١ - من أهم المناطق الزراعية بمصر .....  
 ٢ - مصدر من مصادر الأسماك .....  
 ٣ - مناطق تربية الأغنام والماعز .....





س ٥ اختر الإجابة الصحيحة مما بين الأقواس :

- أ) تتعدد موارد المياه في مصر وهي :  
 ب) من الحيوانات التي تنتشر في الوادي والدلتا :  
 ج) من أهم المحاصيل الزراعية الشتوية :  
 د) من أهم مصايد الأسماك بمصر بحيرة :
- ( نهر النيل - المياه الجوفية - الأمطار - كل ما سبق )  
 ( الإبل - الأبقار - الأغنام - الماعز )  
 ( قصب السكر - الذرة - القمح - الأرز )  
 ( ناصر - طبرية - تانا - فيكتوريا )



( يجب عنها التلميذ )

س ٦ وضح جهود الدولة لتنمية :

- أ) الثروة الزراعية . ب) الثروة الحيوانية .

س ٧ حل هذه الكلمات رأسياً لتحصل على بعض معلومات تهتمك :

- ١ - مناطق زراعية بمصر تعتمد على مياه الآبار والعيون .  
 ٢ - بحيرة من أهم مصايد الأسماك بمصر .  
 ٣ - حيوان يربى في المناطق الصحراوية حيث يتحمل الجفاف .

رابعاً : أسئلة وردت بامتحانات الإدارات بالمحافظات على الدرس الأول

س ١ أكمل العبارات التالية بما يناسبها من كلمات :

- ١ - يتركز سقوط الأمطار على السواحل ..... لمصر .  
 ٢ - يستخدم القطن في صناعة .....  
 ٣ - تتميز مصر بوجود تربة خصبة وهي تربة الوادي و ..... والواحات .  
 ٤ - يعتبر القمح من أهم المحاصيل التي تزرع في فصل .....  
 ٥ - من أنشطة الخدمات .....  
 ٦ - تتنوع المحاصيل الزراعية بسبب اختلاف .....  
 ٧ - من أهم مصايد الأسماك في مصر بحيرة .....  
 ٨ - تسهم الزراعة في توفير ..... اللازمة للصناعة .  
 ٩ - المصدر الرئيسي للمياه العذبة في مصر هو .....  
 ١٠ - من المحاصيل الصيفية .....
- ( إدارة الساحل )  
 ( إدارة غرب القاهرة )  
 ( إدارة القناطر الخيرية )  
 ( إدارة الطور - السويس )  
 ( إدارة العياط - دمياط - القنطرة غرب - شمال الوط )  
 ( الإدارة المركزية للأزهر بالدقهلية )  
 ( إدارة الداخلية )  
 ( إدارة تلا )  
 ( إدارة الحسينية - شمال بورسعيد - أبو تيج - سوهاج - رأس غارب )  
 ( إدارة سوهاج التعليمية )

س ٢ اكتب كلمة ( صح ) أمام العبارات الصحيحة ، وكلمة ( خطأ ) أمام العبارات غير الصحيحة :

- ١ - تتنوع المحاصيل الزراعية حسب تنوع الحرارة .  
 ٢ - لا تسهم الزراعة في توفير بعض المواد الخام اللازمة للصناعة .  
 ٣ - تتعدد الأنشطة الاقتصادية في مصر .
- ( إدارة غرب القاهرة )  
 ( إدارة القناطر الخيرية )  
 ( إدارة تلا - كفر الشيخ - سوهاج - الطور - شمال بورسعيد )

هذا العمل خاص بموقع ذاكرولى التعليمى ولا يسمح بتداوله على مواقع أخرى





- ٤ - القطن والذرة من المحاصيل الصيفية .  
 ( إدارة تلا - الجاور )  
 ٥ - تعتمد الزراعة في الوادي والدلتا على مياه الأمطار .  
 ( إدارة تلا )  
 ٦ - يعد نهر النيل المصدر الرئيسي للمياه العذبة في مصر .  
 ( إدارة دمياط - جنوب بورسعيد - الساحل )  
 ٧ - تنتشر تربية الأغنام والماعز والإبل في الصحراء .  
 ( إدارة العياط )  
 ٨ - تربي الماشية في الوادي والدلتا .  
 ( إدارة دمياط )

س ٣ اختر الإجابة الصحيحة مما بين الأقواس :

- ١ - يعتبر ..... من المحاصيل الصيفية . ( مطروح - الطور - شمال بورسعيد ) ( القمح - الشعير - القطن - الفول )  
 ٢ - تعدد موارد المياه العذبة في مصر وهي :  
 ( إدارة ميت غمر ) ( نهر النيل - المياه الجوفية - الأمطار - كل ما سبق )  
 ٣ - من أهم المصايد السمكية في مصر :  
 ( إدارة رشيد ) ( البحر المتوسط - البحر الأصفر - البحر الأسود - بحر الشمال )  
 ٤ - من الأنشطة التي تعرف بالخدمات :  
 ( إدارة شمال بورسعيد ) ( الصحة - الصناعة - الزراعة - التعدين )

س ٤ اكتب ما تشير إليه العبارات الآتية :

- ١ - العمل الذي يقوم به الإنسان لسد احتياجاته .  
 ( إدارة غرب القاهرة - شرق بورسعيد )  
 ٢ - منتج زراعي يستخدم في صناعة الملابس .  
 ( إدارة شرق بورسعيد - دمياط )  
 س ٥ بم تفسر ؟ : تنوع المحاصيل الزراعية في مصر .  
 ( سوهاج - نصر النوبة - الدخلة - رأس غارب )

### الأسئلة سلاح التلميذ للمنهوضين على الدرس الأول

خاصة

( يجب عنها التلميذ )

س ١ أخطاء السياق ( حدد الكلمة الخطأ ) :

- ( عبارة عن جملة يوجد بها ٤ كلمات تحتها خط ، وإحدى هذه الكلمات خطأ لا تتوافق مع سياق الجملة والمطلوب منك تحديد الكلمة الخطأ واختيارها )  
 ١ النشاط الاقتصادي هو العمل أو الحرفة التي يقوم بها الإنسان لسد احتياجاته مثل الملبس والمسكن والمأكل ويهدف إلى توفير فائض يسمح بالاستيراد .  
 ١ - الاقتصادي . ٢ - الملبس . ٣ - يهدف . ٤ - بالاستيراد .  
 ٢ توفر الزراعة احتياجاتنا اليومية من الغذاء فالقمح يُصنع منه الخبز وتصنع الملابس القطنية من القطن ويعتبر القطن من المحاصيل الشتوية .  
 ١ - الزراعة . ٢ - الغذاء . ٣ - القطن . ٤ - الشتوية .  
 ٣ من العوامل الطبيعية لقيام الزراعة وجود المياه العذبة التي توجد في نهر النيل والمياه الجوفية بالمناطق الصحراوية ومياه الأمطار التي تتركز في السواحل الشرقية لمصر .  
 ١ - الطبيعية . ٢ - المياه العذبة . ٣ - بالمناطق الصحراوية . ٤ - الشرقية .

هذا العمل خاص بموقع ذاكرولي التعليمي ولا يسمح بتداوله على مواقع أخرى







٤ السوق من العوامل البشرية لقيام الزراعة وهو مهم جداً لشراء البذور والآلات والأسمدة الكيماوية والمبيدات الحشرية .

- ١ - السوق . ٢ - البشرية . ٣ - الآلات . ٤ - المبيدات الحشرية .

٥ تتنوع مصايد الأسماك في مصر حيث توجد مصايد للمياه العذبة تتمثل في نهر النيل وفرعيه دمياط ورشيد وبحيرة ناصر والبحر الأحمر .

- ١ - مصايد الأسماك . ٢ - العذبة . ٣ - دمياط . ٤ - البحر الأحمر .

س ٢ اختر الإجابة الصحيحة : ( عبارة عن جزأين ويقوم التلميذ باختيار الإجابة الصحيحة مع مراعاة ترتيب الإجابة )

مثال :

..... هي قناة مائية يتم حفرها لتوصيل المياه إلى الأراضي الزراعية بينما الرياح ترعة كبيرة تخرج من ..... مباشرة .

- ١ - البحر - الترعة . ٢ - الترعة - البحر . ٣ - الترعة - النهر . ٤ - البحيرة - النهر .

ج الإجابة رقم ٣ .

١ ..... هو العمل أو الحرفة التي يقوم بها الإنسان لسد احتياجاته وتوفير ..... للتصدير .

- ١ - النشاط الاقتصادي - المياه . ٢ - المناخ - فائض . ٣ - التنمية الزراعية - فرص العمل . ٤ - النشاط الاقتصادي - فائض .

٢ من المحاصيل الصيفية ..... وتتميز مصر بوجود تربة خصبة في .....

- ١ - القمح - الدلتا . ٢ - القطن - الصحراء الشرقية . ٣ - القطن - الدلتا . ٤ - القمح - الصحراء الشرقية .

٣ يعد ..... المصدر الرئيس للمياه العذبة في مصر بينما توجد المياه الجوفية في المناطق .....

- ١ - البحر الأحمر - الصحراوية . ٢ - نهر النيل - الزراعية بالدلتا . ٣ - نهر النيل - الصحراوية . ٤ - البحر الأحمر - الزراعية بالدلتا .

٤ من مصادر الثروة السمكية في مصر نهر النيل وفرعاها ..... ورشيد والبحرين ..... والمتوسط .

- ١ - إسكندرية - الأحمر . ٢ - دمياط - الأحمر . ٣ - دمياط - الأسود . ٤ - إسكندرية - الأسود .

٥ من جهود الدولة للتنمية الزراعية الاهتمام بالتعليم ..... وتحسين الإنتاج الزراعي بتوفير .....

- ١ - الزراعي - الأسمدة . ٢ - الزراعي - الآفات الزراعية . ٣ - الصناعي - الأسمدة . ٤ - الصناعي - الآفات الزراعية .





سادسًا:

اختبار على الدرس الأول

( يجب عنه التلميذ )

س 1 اكتب كلمة ( صح ) أمام العبارة الصحيحة ، وكلمة ( خطأ ) أمام العبارة غير الصحيحة فيما يلي :

- ١ - من الأنشطة الاقتصادية في مصر الزراعة . ( )  
 ٢ - من العوامل الطبيعية لقيام الزراعة رأس المال . ( )  
 ٣ - تتركز الأمطار في السواحل الشمالية لمصر وهي قليلة . ( )

ب حدد موسم زراعة المحاصيل الآتية :

المحصول	شتوى	صيفى
١ - قطن :		
٢ - قمح :		
٣ - أرز :		
٤ - بصل :		

س 2 ا ب م تفسر ؟

- ١ - تنوع المحاصيل الزراعية في مصر .  
 ٢ - أهمية الزراعة وتربية الحيوان .

ب ما المقصود بـ ؟

- ١ - التربة .  
 ٢ - الرياح .

ج حدد اثنين من جهود الدولة للتنمية الزراعية .

تناسب علمًا وثقافة ومعرفة



اقتن كتاب

Time For English

نوفمبر ١٩٦٠



مجاب  
عنها

## تدريبات سلاح التلميذ على الدرس الأول

ثانياً :

## س ١ أكمل العبارات التالية بما يناسبها من كلمات :

- ١ - بناء الأهرامات في مصر القديمة يدل على ثراء الدولة وتقدمها .....
- ٢ - الملك خوفو أحد ملوك الدولة .....
- ( المنوفية ٢٠١٨ )
- ٣ - يعد هرم سقارة هو أول هرم ..... في التاريخ .
- ٤ - يطلق على عصر الدولة القديمة عصر بناء .....
- ( الشرقية / بنى سويف ٢٠١٩ )
- ٥ - يعد عصر الدولة ..... من أزهى العصور الفرعونية .
- ٦ - الأهرامات تدل على تقدم المصريين في مجال ..... و ..... و .....
- ٧ - الهرم هو بناء ضخم يتكون من بعض ..... يوضع في إحداها .....
- ٨ - بنى الملك ..... هرم سقارة المدرج الذى يتكون من ..... مصاطب .
- ٩ - قام الملك ..... ببناء الهرم الأكبر ، بينما بنى الملك ..... الهرم الأصغر .
- ١٠ - استطاع الملك ..... مد حدود البلاد جنوباً إلى النوبة .
- ( كفر الشيخ ٢٠١٩ )
- ١١ - أمر الملك ..... بنحت تمثال ( أبو الهول ) .
- ( الغربية ٢٠١٩ )
- ١٢ - من أهم التماثيل التى تركها ملوك الدولة القديمة تمثال .....
- ١٣ - اهتم المصريون القدماء ببناء ..... لدفن موتاهم .
- ١٤ - يعد ..... أحد عجائب الدنيا السبع .

## س ٢ اكتب كلمة (صواب) أمام العبارة الصحيحة، وكلمة (خطأ) أمام العبارة غير الصحيحة فيما يلى :

- ١ - بناء الأهرامات يدل على تفوق المصريين فى مجال الهندسة . ( )
- ٢ - بنى الملك زوسر أقدم بناء حجري فى التاريخ . ( القاهرة ٢٠١٩ ) ( )
- ٣ - بنى الملك خوفو الهرم الأوسط . ( البحيرة ٢٠١٨ ) ( )
- ٤ - يطلق على عصر الدولة القديمة عصر بناء الأهرامات . ( المنوفية ٢٠١٩ ) ( )
- ٥ - أمر الملك منكاورع بنحت تمثال ( أبو الهول ) . ( الأقصر ٢٠١٨ ) ( )
- ٦ - وضع المصريون القدماء الأشياء التى كان يعتقد أن يحتاجها المتوفى فى العالم الآخر داخل الهرم . ( أسوان ٢٠١٩ ) ( )
- ٧ - يتكون هرم سقارة المدرج من ست حجرات . ( )
- ٨ - يعد تمثال ( أبو الهول ) أحد عجائب الدنيا السبع . ( )
- ٩ - استطاع الملك منكاورع مد حدود البلاد جنوباً إلى النوبة . ( )

## س ٣ اختر الإجابة الصحيحة مما بين القوسين :

- ١ - أمر الملك خفرع بنحت تمثال ..... وبناء الهرم الأوسط . ( رمسيس - أبو الهول - الكاتب - أتون )
- ٢ - يتكون هرم سقارة المدرج من ..... مصاطب . ( بنى سويف ٢٠١٩ ) ( ثلاث - أربع - خمس - ست )

هذا العمل خاص بموقع ذاكرولى التعليمى ولا يسمح بتداوله على مواقع أخرى





- ٢ - قام الملك ..... ببناء الهرم الأكبر . ( الجيزة ٢٠١٩ ) ( خوفو - خفرع - منكاورع - زوسر )
- ٤ - بنى الملك زوسر الهرم ..... ( الأكبر - المدرج - الأوسط - الأصغر )
- ٥ - سمى عصر الدولة القديمة بعصر ..... ( الرخاء الاقتصادي - المجد الحربي - بناء الأهرام - الاضمحلال )
- ٦ - استطاع الملك زوسر مد حدود البلاد جنوباً إلى ..... ( الأقصر ٢٠١٩ ) ( النوبة - الدلتا - البحر الأحمر - الجيزة )

#### ٤ س اكتب المصطلح التاريخي الذي تشير إليه كل من العبارات التالية :

- ١ - بناء ضخمة من الحجر يتكون من بعض الحجرات يوضع في إحداها تابوت الملك . (.....)
- ٢ - أول هرم مدرج في التاريخ ويتكون من ست مصاطب . ( الإسكندرية ٢٠١٨ ) (.....)
- ٣ - هرم بناه الملك خوفو ويعد من عجائب الدنيا السبع . (.....)
- ٤ - يعد من أزهى عصور مصر القديمة وسمى بعصر بناء الأهرام . (.....)
- ٥ - تمثال أمر بنحته الملك خفرع رأسه تشبه رأس الإنسان وجسمه جسم أسد . (.....)

#### ٥ س بم تفسر ؟

- ١ - يطلق على هرم زوسر اسم الهرم المدرج . ( الجيزة ٢٠١٨ )
- ٢ - يعد الهرم الأكبر أحد عجائب الدنيا السبع . ( القاهرة ٢٠١٩ )
- ٣ - تسمية الدولة القديمة بعصر بناء الأهرام . ( كهر الشيخ ٢٠١٨ )
- ٤ - أهمية الأهرامات في الحضارة المصرية القديمة .
- ٥ - قيام المصريين القدماء بوضع أشياء الملك المتوفى معه في الهرم .
- ٦ - بناء المصريين القدماء للأهرامات . ( أسوان ٢٠١٩ )

#### ٦ س ما النتائج المترتبة على ما يلي ؟

- ١ - بناء الأهرامات في الدولة المصرية القديمة .
- ٢ - ضخامة الهرم الأكبر وروعة تصميمه . ( الإسكندرية ٢٠١٩ )

#### ٧ س لمن تنسب الأعمال التاريخية الآتية ؟

- ١ - بنى الهرم الأكبر . (.....)
- ٢ - بنى هرم سقارة المدرج . (.....)
- ٣ - أمر بنحت تمثال ( أبو الهول ) . ( الإسكندرية ٢٠١٨ ) (.....)
- ٤ - بنى الهرم الأصغر في الجيزة . ( أسوان ٢٠١٨ ) (.....)
- ٥ - مد حدود البلاد جنوباً إلى النوبة . (.....)
- ٦ - بنى الهرم الأوسط . (.....)

#### ٨ س صوب ما تحته خط :

- ١ - قام الملك منكاورع ببناء الهرم الأوسط ونحت تمثال ( أبو الهول ) .
- ٢ - يطلق على الدولة القديمة عصر المجد الحربي .

هذا العمل خاص بموقع ذاكرولى التعليمي ولا يسمح بتداوله على مواقع أخرى





- ٣ - يعد الهرم الأكبر أول هرم مدرج في التاريخ .
- ٤ - يتكون هرم سقارة من ست حجرات .
- ٥ - يعد الهرم الأوسط أحد عجائب الدنيا السبع .
- ٦ - الهرم هو بناء ضخم من الحجر يتكون من عدة مصاطب يوضع في إحداها تابوت الملك .

أكمل الجدول التالي :

أهم الأعمال	الملك
.....	زوسر
.....	خوفو
.....	خفرع
.....	منكاورع

١ ما العلاقة بين كل مما يأتي : التقدم الاقتصادي وبناء الأهرامات ؟

ب برهن على صحة العبارة الآتية :

تقدم المصريين القدماء في مجال الهندسة والعلوم والفنون والعمارة .

ج ما المقصود بالهرم ؟

د أمامك صورة لأهرامات عصر الدولة القديمة ،

انظر إليها ثم أجب عما يأتي :

١ - ما اسم أول هرم بُني ؟

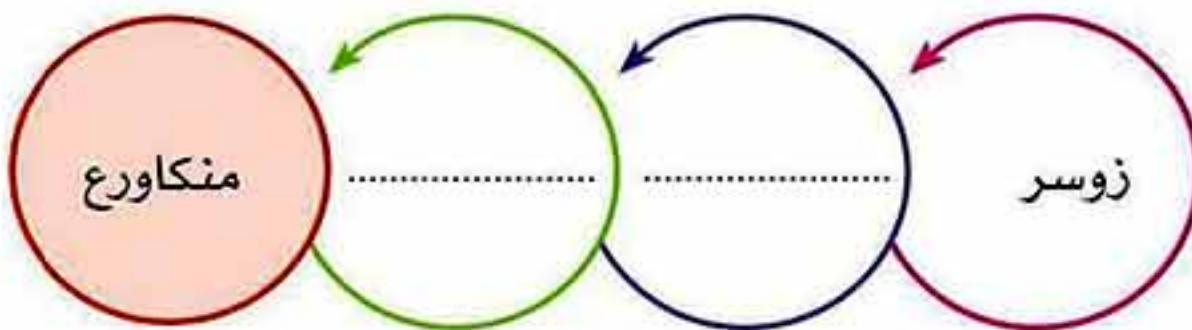
٢ - من الملك الذي أمر ببنائه ؟

٣ - لماذا يعتبر إحدى عجائب الدنيا السبع ؟



( القلوبية ٢٠١٩ )

هـ أكمل الخط الزمني الآتي لملوك الدولة القديمة :





اختبار على  
الدرس الأول

## س ١ | أكمل العبارات التالية بما يناسبها من كلمات :

(السويس ٢٠١٨)

- ١ - قام الملك ..... بمد حدود البلاد جنوباً إلى النوبة .
- ٢ - يعد عصر الدولة ..... من أزهى العصور الفرعونية .
- ٣ - سمى عصر الدولة ..... بعصر بناء الأهرامات .

(القاهرة ٢٠١٩)

ب | ماذا كان يحدث إذا : لم يتميز الهرم الأكبر بضخامة حجمه وبراعة تصميمه ؟

## س ٢ | اكتب كلمة (صواب) أمام العبارة الصحيحة، وكلمة (خطأ) أمام العبارة غير الصحيحة فيما يلي :

- ١ - الملك خفرع أحد ملوك الدولة القديمة وهو الذي بنى الهرم الأكبر . ( )
- ٢ - بنى الملك زوسر هرم سقارة المدرج وأمر بنحت تمثال ( أبو الهول ) . ( )
- ٣ - تدل الأهرامات على تقدم المصريين القدماء و ثراء الدولة القديمة . ( )
- ٤ - قام الملك منكاورع ببناء الهرم الأصغر . ( )

## ب | دلل على صحة العبارة التالية :

- تقدم المصريون القدماء في مجال الهندسة والعلوم والفنون والعمارة .

## س ٣ | ا | بم تفسر : تسمية عصر الدولة القديمة بعصر بناء الأهرام ؟

## ب | اختر الإجابة الصحيحة مما بين الأقواس :

- ١ - أمر الملك ..... بنحت تمثال ( أبو الهول ) . ( زوسر - خوفو - خفرع - منكاورع )
- ٢ - شيد الملك منكاورع ..... ( هرم سقارة - الهرم الأكبر - الهرم الأوسط - الهرم الأصغر )
- ٣ - يعد ..... أول هرم مدرج في التاريخ . ( هرم سقارة - الهرم الأكبر - الهرم الأوسط - الهرم الأصغر )

## س ٤ | ا | اذكر أهم الأعمال التاريخية للملوك التالية :

- ١ - الملك زوسر .....
- ٢ - الملك خوفو .....
- ٣ - الملك خفرع .....

## ب | ما المقصود بالهرم ؟

لمزيد من الأسئلة وإجاباتها ارجع إلى موقع سلاح التلميذ على الإنترنت

www.selaheltelmeez.com



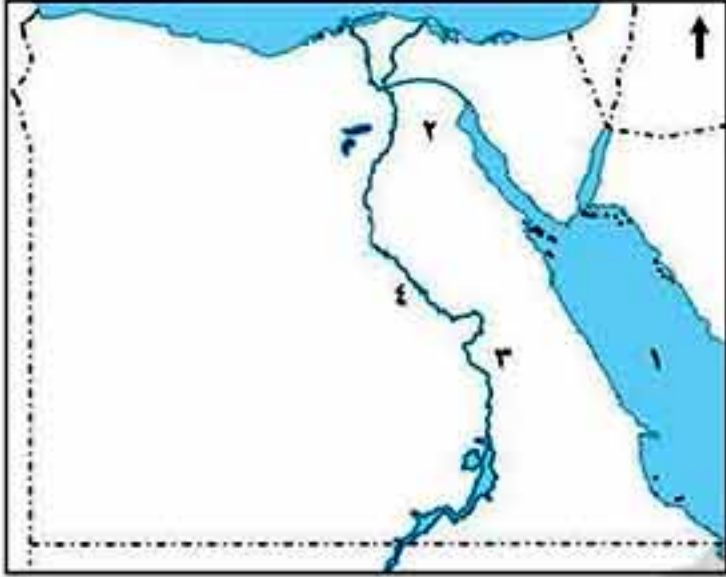


مجاب  
عنها

## تدريبات سلاح التلميذ على الدرس الثاني

ثانياً :

١ س | أمامك خريطة صماء لمصر، اكتب مدلول الأرقام التالية :



- ١ - البحر .....
- ٢ - قناة تم حفرها في عصر الدولة الوسطى ..... (القلوبية ٢٠١٩)
- ٣ - عاصمة الدولة الوسطى في عهد الملك منتوحتب الثاني .....
- ٤ - نهر .....

٢ س | أكمل العبارات التالية بما يناسبها من كلمات :

- ١ - انتشرت الفوضى وتفككت وحدة البلاد في نهاية عصر .....
- ٢ - اتخذ الهكسوس مدينة ..... عاصمة لهم . (الشرقية ٢٠١٩)
- ٣ - تربط قناة سيزوستريس بين البحر ..... ونهر ..... (البحيرة ٢٠١٩)
- ٤ - سمي عصر الدولة الوسطى بعصر .....
- ٥ - استطاع الملك ..... السيطرة على البلاد مرة أخرى بعد سقوط الدولة القديمة .
- ٦ - اتخذ الملك منتوحتب الثاني من مدينة ..... عاصمة للبلاد .
- ٧ - أساء ..... معاملة المصريين حيث هدموا ..... وخرّبوا الكثير من .....
- ٨ - تولى ..... الابن الأكبر لسقن رع قيادة المصريين بعد وفاة أبيه .
- ٩ - جهز الملك أحمس جيشه بالعجلات .....
- ١٠ - بنى الملك أمنمحات الثالث سد ..... ومعبد .....
- ١١ - قام الملك ..... بالاهتمام بالجيش وقاد الحملات لتأمين حدود البلاد .
- ١٢ - أُقيم سد اللاهون في الفيوم لحماية الأراضي من مياه ..... وزيادة .....
- ١٣ - بدأ الكفاح ضد الهكسوس من الوجه القبلي بقيادة الملك .....
- ١٤ - شجعت الملكة ..... ابنها كامس لمحاربة الهكسوس ومن بعده ابنها الملك أحمس .

٣ س | اكتب كلمة (صواب) أمام العبارة الصحيحة ، وكلمة (خطأ) أمام العبارة غير الصحيحة فيما يلي :

- ١ - نجح الملك أحمس في هزيمة الهكسوس وطردهم خارج البلاد . (الجيزة ٢٠١٨)
- ٢ - يسمى عصر الدولة الحديثة بعصر الرخاء الاقتصادي . (الجيزة ٢٠١٩)
- ٣ - تربط قناة سيزوستريس البحر الأحمر بالبحر المتوسط . ( )
- ٤ - استقرت قبائل الهكسوس في جنوب مصر . (الدقهلية ٢٠١٩)

هذا العمل خاص بموقع ذاكرولى التعليمي ولا يسمح بتداوله على مواقع أخرى





- ٥ - لقب الملك أمنمحات الثالث بـ قاهر الهكسوس . ( السويس ٢٠١٩ ) ( )
- ٦ - بنى الملك أمنمحات الثالث السد العالى . ( القاهرة ٢٠١٩ ) ( )
- ٧ - يبدأ عصر الدولة الوسطى بالملك منتوحتب الثانى . ( )
- ٨ - حفرت قناة سيزوستريس فى عهد الملك أمنمحات الثالث . ( الشرقية ٢٠١٩ ) ( )
- ٩ - أحب المصريون الهكسوس عندما احتلوا مصر . ( )
- ١٠ - اهتم ملوك عصر الدولة الوسطى بإقامة مشروعات الري والزراعة والصناعة والتجارة . ( )
- ١١ - بنى الملك سنوسرت الثالث معبد التيه . ( )



حل التدريب

### س ٤ اختر الإجابة الصحيحة مما بين القوسين :

- ١ - أول من كافح ضد الهكسوس هو الملك ..... ( الجيزة ٢٠١٩ )  
( كامس - أحمس - منتوحتب الثانى - سقن رع )
- ٢ - قام الملك ..... بحفر قناة سيزوستريس . ( الشرقية ٢٠١٨ )  
( رمسيس الثانى - سنوسرت الثالث - منتوحتب الرابع - أحمس )
- ٣ - الملكة التى شجعت أبناءها على طرد الهكسوس من مصر هى ..... ( مطروح ٢٠١٩ )  
( كليوباترا - حتشبسوت - إياح حتب - نفرтитى )
- ٤ - بنى الملك أمنمحات الثالث معبد ..... ( دمياط ٢٠١٨ )  
( الأقصر - التيه - أبو سمبل - الكرنك )
- ٥ - نجح الملك ..... فى توحيد البلاد وطرد الهكسوس . ( اسيوط ٢٠١٩ )  
( تحتمس الثالث - أحمس - أمنحتب الرابع - مينا )
- ٦ - أقيم سد اللاهون بالفيوم فى عهد الملك ..... ( القاهرة ٢٠١٩ )  
( سنوسرت الثالث - منتوحتب الثانى - أمنمحات الثالث - أحمس )
- ٧ - مدينة اتخذها الهكسوس عاصمة لهم هى مدينة ..... ( السويس - طيبة - الفيوم - أواريس )
- ٨ - تولى ..... قيادة الجيش بعد وفاة أبيه سقن رع .  
( أحمس - سنوسرت الثالث - كامس - منتوحتب الأول )
- ٩ - استخدم ..... العجلات الحربية فى حربه ضد الهكسوس .  
( سقن رع - كامس - أحمس - تحتمس الثالث )
- ١٠ - اتخذ الملك منتوحتب الثانى مدينة ..... عاصمة للبلاد . ( أواريس - طيبة - اللاهون - الفيوم )

### س ٥ اكتب المفهوم الذى تشير إليه كل من العبارات التالية :

- ١ - اسم أطلق على عصر الدولة الوسطى بسبب اهتمام الملوك فيه بالزراعة والتجارة والصناعة .  
( ..... )
- ٢ - قناة مائية ربطت بين البحر الأحمر ونهر النيل فى عصر الدولة الوسطى .  
( ..... )
- ٣ - سد بناه الملك أمنمحات الثالث لحماية الأراضى من مياه الفيضان فى الفيوم .  
( ..... )
- ٤ - مدينة اتخذها الهكسوس عاصمة لهم وتقع حالياً فى محافظة الشرقية .  
( ..... )

هذا العمل خاص بموقع ذاكرولى التعليمى ولا يسمح بتداوله على مواقع أخرى





- ٥ - مدينة اتخذها الملك منتوحتب الثاني عاصمة للبلاد . (.....)
- ٦ - معبد كبير وواسع أقيم في عهد الملك أمنمحات الثالث . (.....)
- ٧ - نوع من العجلات تجرها الخيول واستخدمها أحمس في طرد الهكسوس من مصر . (.....)

## س ٦ | بم تفسر؟

- ١ - تسمية عصر الدولة الوسطى بعصر الرخاء الاقتصادي . (الدقهلية ٢٠١٩)
- ٢ - انتهاء عصر الدولة القديمة . (أسبوط ٢٠١٩)      ٣ - بناء سد اللاهون .
- ٤ - حفر قناة سيزوستريس .      ٥ - اهتمام الملك سنوسرت الثالث بالجيش .
- ٦ - نجاح الهكسوس في غزو مصر .      ٧ - كره المصريين للهكسوس . (الغربية ٢٠١٩)
- ٨ - نجاح أحمس في طرد الهكسوس من مصر .      ٩ - أهمية دور إياح حتب في الكفاح ضد الهكسوس .

## س ٧ | ما النتائج المترتبة على ما يلي؟

- ١ - اهتمام ملوك الدولة الوسطى بإقامة المشروعات الاقتصادية . (القليوبية ٢٠١٨)
- ٢ - ضعف الحكام وكثرة الصراعات والفوضى التي عمت البلاد في نهاية الدولة القديمة . (الإسكندرية ٢٠١٩)
- ٣ - إقامة سد اللاهون في عهد الملك أمنمحات الثالث . (المنوفية ٢٠١٨)
- ٤ - استخدام أحمس العجلات الحربية في حربه ضد الهكسوس . (الدقهلية ٢٠١٩)
- ٥ - حفر قناة سيزوستريس في عهد الملك سنوسرت الثالث .
- ٦ - إساءة الهكسوس معاملة المصريين .

## س ٨ | اختر من العمود ( أ ) ما يناسبه من العمود ( ب ) :

أ	ب
١ - استخدم أحمس في طرد الهكسوس	١ - الدولة الوسطى .
٢ - تربط بين البحر الأحمر ونهر النيل	٢ - أعاد توحيد البلاد مرة أخرى .
٣ - ملك من الوجه القبلي بدأ الكفاح ضد الهكسوس	٣ - العجلات الحربية .
٤ - الملك منتوحتب الثاني	٤ - قناة سيزوستريس .
٥ - الدولة التي أطلق عليها عصر الرخاء الاقتصادي	٥ - سقن رع .
	٦ - سد اللاهون .

## س ٩ | لمن تنسب الأعمال التالية؟

- ١ - اهتم بشئون الزراعة وقام ببناء سد اللاهون ومعبد التيه . (.....)
- ٢ - أعاد توحيد البلاد واتخذ من طيبة عاصمة للبلاد . (.....)
- ٣ - حفر قناة سيزوستريس . (الغربية ٢٠١٩) (.....)
- ٤ - تولى قيادة الجيش بعد أبيه وقُتل في الحرب ضد الهكسوس . (.....)
- ٥ - بدأ الكفاح ضد الهكسوس . (.....)

هذا العمل خاص بموقع ذاكرولى التعليمي ولا يسمح بتداوله على مواقع أخرى





- ٦ - شجعت أبناءها على الكفاح ضد الهكسوس .  
(.....)
- ٧ - هزم الهكسوس وطردهم خارج مصر .  
(.....)
- ٨ - استخدم العجلات الحربية في الكفاح ضد الهكسوس .  
(.....)
- ٩ - احتلوا شمال مصر واتخذوا من مدينة أواريس عاصمة لهم .  
(.....)

### أ ما العلاقة بين :

( القاهرة ٢٠١٩ )

١ - الملك سنوسرت الثالث وقناة سيزوستريس ؟

.....

٢ - الملك أحمس والعجلات الحربية والهكسوس ؟

.....

( القاهرة ٢٠١٩ )

ب « بدأ كفاح المصريين ضد الهكسوس من الوجه القبلى .. » **أجب :**

١ - من هو أول من قاد الكفاح ضد الهكسوس ؟

.....

( أكمل )

٢ - قتل الملك كامس في الحرب ضد .....

٣ - ما دور الملكة إياح حتب في الحرب ضد الهكسوس ؟

.....

٤ - من الملك الذى استطاع طرد الهكسوس من مصر ؟

.....

ح **ماذا كان سيحدث إذا لم :** تقم أم أحمس بتشجيعه على قيادة الجيش وطرد الهكسوس ؟





اختبار تراكمي على  
ما سبق دراسته



( يجب عنها التلميذ )

س ١ | أكمل العبارات التالية بما يناسبها من كلمات :

- ١ - مد الملك ..... حدود البلاد جنوباً إلى النوبة ، وقاد الملك ..... الحملات لتأمين حدود البلاد .
  - ٢ - قام الملك ..... ببناء هرم سقارة المدرج ، بينما بنى سد ..... الملك أمنمحات الثالث .
  - ٣ - من أشهر تماثيل ملوك الدولة القديمة تمثال .....
- ب | ماذا كان سيحدث إذا لم : تقم أم أحمس بتشجيعه على قيادة الجيش وطرده الهكسوس من مصر؟

س ٢ | اكتب كلمة (صواب) أمام العبارة الصحيحة ، وكلمة (خطأ) أمام العبارة غير الصحيحة فيما يلي :

- ١ - شيد المصريون القدماء أهرامات عظيمة . ( )
  - ٢ - بدأ الملك سقنن رع الكفاح ضد الهكسوس بعد وفاة ابنه كامس . ( )
  - ٣ - بنى الملك خوفو الهرم الأوسط الذي يعد أحد عجائب الدنيا السبع . ( )
  - ٤ - اهتم الملك منتوحتب الثاني بشئون الزراعة والرى . ( )
- ب | دلل على صحة العبارة التالية : الاستقرار والأمان يحققان حضارة عظيمة .

س ٣ | بم تفسر؟

- ١ - يعد الهرم الأكبر أحد عجائب الدنيا السبع .
  - ٢ - تسمية عصر الدولة الوسطى بعصر الرخاء الاقتصادي .
  - ٣ - نجح الهكسوس في غزو مصر .
  - ٤ - تسمية عصر الدولة القديمة بعصر بناء الأهرام .
- ب | قارن بين : قناة سيزوستريس وقناة السويس من حيث وجه الاختلاف .

س ٤ | صوب ما تحته خط :

- ١ - قام الملك أمنمحات الثالث ببناء الهرم الأصغر .
  - ٢ - يقع سد اللاهون في مدينة طيبة .
  - ٣ - يعد هرم خوفو المدرج هو أول هرم مدرج في التاريخ .
  - ٤ - قام الملك سنوسرت الثالث ببناء معبد ضخيم سمى معبد التيه .
- ب | (صمم المصريون على الكفاح وطرده الهكسوس وبدأ الكفاح من الوجه القبلي) .

( الجيزة ٢٠١٩ )

في ضوء هذه العبارة وضح مايلي:

- ١ - من الملك الذي نجح في طرد الهكسوس؟
- ٢ - بم تفسر : كره المصريين للهكسوس؟



## اختبر معلوماتك

س ١: اكتب كلمة (صح) أمام العبارة الصحيحة و كلمة (خطأ) أمام العبارة الخاطئة فيما يأتي:

- ١- تشتهر محافظات الوادي والدلتا بانتشار حرفة الزراعة . ( )
- ٢- يعمل بعض سكان محافظة جنوب سيناء بحرفة السياحة. ( )
- ٣- من أهم محافظات استخراج البترول في مصر محافظات القناة. ( )
- ٤- تشتهر مدينة السويس بالسياحة. ( )
- ٥- يمارس كل إنسان عملاً للحصول على رزقه وسد احتياجاته. ( )
- ٦- باختلاف الحرف تتوفر احتياجات المجتمع من الملابس والمسكن. ( )

س ٢: أكمل العبارات الآتية بما يناسبها:

- ١- تعتبر دلتا النيل من أهم المناطق الصالحة لقيام حرفة .....
- ٢- النشاط الاقتصادي هو .....
- ٣- تقوم حرفة الصناعة في ..... محافظات مصر.
- ٤- من أهم الأنشطة التي تعرف بأنشطة الخدمات ..... و .....
- ٥- تشتهر محافظتي بأنشطة هامة منها ..... و .....
- ٦- تتنوع الأنشطة الاقتصادية في مصر فتشمل الزراعة و ..... و .....

س ٣: بم تفسر؟

- ١- أهمية الأنشطة الاقتصادية في مصر.
- ٢- أهمية أنشطة الخدمات.

## اختبر معلوماتك

س ١: اكتب كلمة (صح) أمام العبارة الصحيحة وكلمة (خطأ) أمام العبارة الخاطئة:

- ١- تعتبر سواحل البحر المتوسط من أهم مصادر الثروة السمكية في مصر. ( )
- ٢- تمدنا البيئة الزراعية ببعض الخامات اللازمة للصناعة. ( )
- ٣- تختلف المحاصيل الزراعية في مصر من مكان إلى آخر. ( )
- ٤- القطن والأرز من المحاصيل الشتوية في مصر. ( )
- ٥- تساعد الثروة الحيوانية في توفير اللحوم والألبان. ( )





الأنشطة الاقتصادية في بلدى

قطر الندى

س ٢: أكمل العبارات الآتية:

- ١- من المحاصيل الصيفية فى مصر ..... و .....
- ٢- من الظروف الطبيعية التى أدت إلى تنوع المحاصيل الزراعية ..... و .....
- ٣- المصدر الرئيس للمياه العذبة فى مصر هو .....
- ٤- يصنع الخبز من ..... أو .....

س ٣: بم تفسر؟

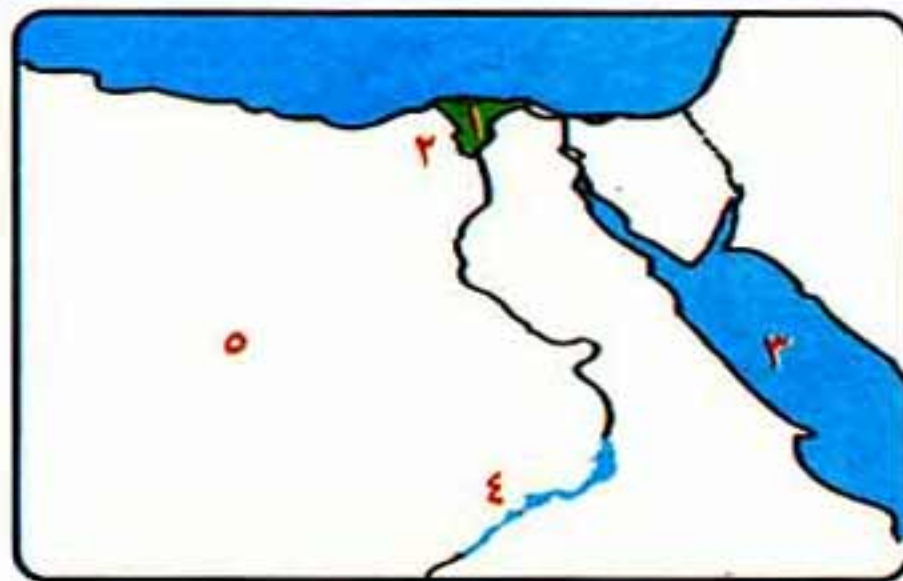
- ١- أهمية الزراعة فى مصر.
- ٢- تنوع المحاصيل الزراعية فى مصر.
- ٣- للثروة الحيوانية فى مصر أهمية كبيرة.
- ٤- اهتمام الدولة بتوفير الأسمدة والبذور الجيدة.

س ٤: صل من العمود (أ) ما يناسب العمود (ب):

(ب)	(أ)
( ) محاصيل صيفية.	١- تقوم الزراعة على مياه النيل والترع
( ) محاصيل شتوية.	٢- تقوم الزراعة على مياه الآبار والعيون
( ) فى المناطق الصحراوية.	٣- الأرز والقطن وقصب السكر
( ) فى الوادى والدلتا.	٤- تقوم الزراعة على مياه الأمطار الشتوية
( ) فى السواحل الشمالية.	

س ٥: اكتب ما تشير إليه كل عبارة من العبارات الآتية:

- ١- قناة مائية يتم حفرها لتوصيل المياه إلى الأراضى الزراعية.
- ٢- عملية الهدف منها زيادة الإنتاج الزراعى وتحسينه.
- ٣- نشاط يقوم به الإنسان فى المناطق التى تتوفر فيها المياه والتربة الخصبة.
- ٤- الأيدى العاملة ورأس المال والسوق.



س ٦: اكتب مدلول الأرقام على الخريطة:

- ١- منطقة زراعية .....
- ٢- فرع .....
- ٣- من مصائد المياه المالحة .....
- ٤- بحيرة .....
- ٥- الصحراء .....



## اختبر معلوماتك

س ١: أكمل العبارات الآتية بما يناسبها :

- ١- يعد الهرم الأكبر أحد عجائب .....
- ٢- يطلق على عصر الدولة القديمة عصر .....
- ٣- الذى بنى الهرم الأوسط هو الملك .....
- ٤- نجح الملك زوسر فى مد حدود البلاد جنوبًا إلى .....

س ٢: إلى من تنسب الأعمال الآتية ؟

- ١- بناء هرم سقارة المدرج.
- ٢- بناء الهرم الأكبر.
- ٣- أمر بنحت تمثال أبو الهول.
- ٤- قام ببناء الهرم الأصغر.

س ٣: اكتب كلمة ( صح ) أو كلمة ( خطأ ) أمام العبارات التالية :

- ١- الملك خوفو هو صاحب تمثال أبو الهول. ( )
- ٢- يتكون هرم زوسر من ٦ مصاطب. ( )
- ٣- يطلق على عصر الدولة القديمة اسم عصر المجد الحربى. ( )
- ٤- يدفن الملك فى أحد حجرات الهرم. ( )

س ٤: بم تفسر ؟

- ١- يطلق على هرم الملك زوسر اسم هرم سقارة المدرج.
- ٢- اهتم ملوك الدولة القديمة ببناء الأهرامات.
- ٣- يعتبر الهرم الأكبر أحد عجائب الدنيا السبع.
- ٤- تسمية عصر الدولة القديمة بعصر بناء الأهرام.

س ٥: عرف كلاً مما يأتى :

- ١- الهرم.
- ٢- عصر الدولة القديمة.
- ٣- العصر.





### اختبر معلوماتك

س ١: اكتب كلمة (صح) أمام العبارة الصحيحة وكلمة (خطأ) أمام العبارة الخاطئة:

- ١- اتخذ الملك أمنمحات الثالث طيبة عاصمة للبلاد. ( )
- ٢- أقدم طريق مائي وصل بين البحرين الأحمر والمتوسط هو قناة سيزوستريس. ( )
- ٣- أقام الهكسوس في مصر عاصمة لهم هي بوتو. ( )
- ٤- احترم الهكسوس معتقدات وعادات المصريين القدماء. ( )

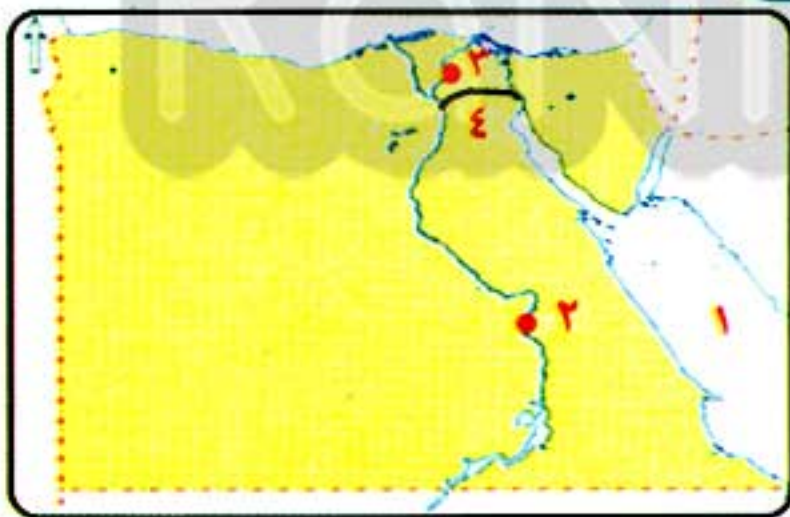
س ٢: أكمل العبارات الآتية:

- ١- أقام الملك ..... سد اللاهون لحماية أراضي الفيوم من الفيضان.
- ٢- نجح الهكسوس في احتلال ..... مصر واتخذوا من ..... عاصمة لهم.
- ٣- سمي عصر الدولة الوسطى بعصر .....
- ٤- استخدم أحمس سلاح ..... في حربه ضد الهكسوس.

س ٣: اذكر عملاً واحداً لكل من:

- ١- الملك أمنمحات الثالث.
- ٢- الملك منتوحتب الثاني.
- ٣- الملك سنوسرت الثالث.
- ٤- الملك أحمس.

س ٤: أمامك خريطة صماء لمصر. اكتب مدلول الأرقام:



- ١- البحر .....
- ٢- عاصمة الدولة الوسطى .....
- ٣- عاصمة الهكسوس في مصر .....
- ٤- قناة حفرها سنوسرت الثالث .....

س ٥: بم تفسر؟

- ١- كره المصريون للهكسوس.
- ٢- انتصار الملك أحمس على الهكسوس.
- ٣- أقام الملك أمنمحات الثالث سد اللاهون.
- ٤- تسمية عصر الدولة الوسطى بعصر الرخاء الاقتصادي.